

## LATIHAN SOAL UAN SD

1. .... banyak susu yang kamu beli ?

Kata tanya yang tepat untuk melengkapi kalimat di atas adalah .....

- A. Mengapa
- B. Dimana
- C. Kemana
- D. Berapa

2. .... Supratman adalah pencipta lagu kebangsaan Indonesia Raya.  
Kalimat diatas dapat dilengkapi dengan gelar .....

- A. w.r.
- B. W.R.
- C. W.r
- D. WR

3.

- 1. Mereka bekerja dengan cermat, cepat dan rapi.
- 2. Mereka bekerja dengan sukarela, bahu membahu
- 3. Para pemuda bekerja dengan giat
- 4. Ada yang mengaduk semen, mengukur kayu, memasang

bata dan sebagainya

Kalimat – kalimat diatas akan menjadi paragraf yang baik jika disusun dengan urutan .....

- A. 3, 2, 4, 1
- B. 2, 1, 3, 4
- C. 3, 1, 4, 2
- D. 1, 4, 3, 2

4. Akronim ilmu pengetahuan dan teknologi adalah ....

- A. Iptek
- B. Iplog
- C. Ilpek
- D. Ipetek

5. Bacalah dengan teliti !

## BERITA DUKA

Telah meninggal dunia dengan tenang pada hari Minggu, tanggal 15 Januari 2006 pada pukul 08.30 WIB.

BAPAK H. SULAIMAN

Alamat : Jln Satunusa Nomor 123 Jombang . Jenazah akan dimakamkan pada hari ini di pemakaman umum Jombang.

Atas bantuan semua handai taulan kami ucapkan terima kasih .

Hj. Siti Maemunah

Bacaan berita duka di atas yang berisi ungkapan duka terdapat pada kalimat ....

- A. Jln. Satunusa Nomor 123 Jombang
- B. Jenazah akan dimakamkan hari ini
- C. Telah meninggal dunia
- D. Atas bantuan handai taulan kami ucapkan terima kasih

6. Berikut ini kata ganti milik adalah, kecuali ....

- A. baju dia
- B. sepedaku
- C. sepatunya
- D. bukumu

7. Dibawah ini yang merupakan kata kerja pasif ialah ....

- A. di rumah
- B. dinasehati
- C. di sawah
- D. di pasar

8. Agar tidak terjadi benturan antara kepentingan pribadi diperlukan ..... semua warga

- A. kemauan
- B. keinginan
- C. kesadaran
- D. niat

9. Cara menyampaikan pendapat yang baik pada saat musyawarah adalah .....

- A. setelah dipersilahkan pemimpin rapat
- B. diajukan setelah rapat selesai
- C. menyela pembicaraan pemimpin rapat
- D. berusaha keras agar usulannya di terima

10. Dalam melaksanakan hak dan kewajiban kita perlu memelihara rasa ....

- A. tanggung jawab
- B. ingin dipuji
- C. ingin ditakuti
- D. ingin menonjol

11. Kamu menjumpai nenek tua yang hendak menyebrang jalan raya. Tindakan yang kamu lakukan adalah ....

- A. pura – pura tidak tahu
- B. membiarkan menyebrang sendiri
- C. menyebrangkan disembarang tempat
- D. menyebrangkan di tempat penyebrangan

12. Memperoleh pengajaran dari guru di sekolah merupakan ..... dari setiap siswa

- A. tugas
- B. kewajiban
- C. tanggungjawab
- D. hak

13. Perilaku siswa yang rajin menuntut ilmu adalah ....


- A. banyak bermain
- B. selalu tidur di kelas
- C. selalu mencontek waktu ulangan
- D. banyak belajar

14. Salah satu akibat dari kehidupan yang tidak serasi, hidupnya akan .....

- A. kacau
- B. tentram
- C. damai
- D. sejahtera

15. Bagian tubuh kita yang paling peka terhadap rangsangan dari luar adalah ....

- A. ujung jari dan bibir
- B. telapak kaki dan bibir
- C. telapak tangan dan kaki
- D. ujung jari dan rambut

16.  Berdasarkan gambar tersebut, jika magnet A dan B didekatkan maka akan terjadi .....

- A. tarik menarik
- B. melekat
- C. tolak menolak
- D. diam tak bergerak

17. Berlangsungnya fotosintesis pada tumbuhan hijau memerlukan .....

- A. sinar matahari, air, yodium
- B. oksigen, air, karbohidrat
- C. karbondioksida, sinar matahari , air
- D. sinar listrik, air, oksigen

18. Energi berasal dari beberapa sumber, dan dipergunakan manusia untuk berbagai kegiatan. Contoh sumber energi gerak adalah .....

- A. mobil, pesawat, traktor
- B. air terjun, ombak, angin
- C. air terjun, mobil, pesawat
- D. ombak, kapal, angin

19. Hewan pemakan segala ( tumbuhan dan daging ) adalah .....

- A. herbivora
- B. omnivora
- C. karnivora
- D. pengurai

20. Perhatikan bagian – bagian beberapa magnet di bawah ini !



Bagian magnet tersebut di atas yang mempunyai daya tarik paling besar adalah .....

- A. 1, 4, 5
- B. 2, 4, 6
- C. 1, 3, 6
- D. 1, 2, 3

21. Pada dinamo sepeda terdapat kumparan atau lilitan kawat pada magnet yang berbentuk ....

- A. jarum
- B. batang
- C. silinder
- D. U

22. Dibawah ini yang merupakan lapangan pekerjaan yang menghasilkan jasa adalah ...

- A. guru, nelayan, bengkel
- B. guru, bengkel, dokter
- C. guru, pedagang, dokter
- D. guru, petani, bengkel

23. Gambar pohon beringan pada lambang koperasi melambangkan ....

- A. Pancasila sebagai landasan idiil
- B. sifat kesuburan dan kemakmuran para anggotanya
- C. sifat pengayom masyarakat
- D. sifat kemasyarakatan dan persatuan yang kokoh

24. Indonesia paling lama dijajah oleh .....

- A. Belanda
- B. Portugis
- C. Jepang
- D. Inggris

25. Kekayaan alam yang diperbaharui adalah ....

- A. nikel
- B. batu bara
- C. tembaga
- D. hutan

26. Manfaat koperasi bagi anggotanya adalah ....

- A. kebahagiaan
- B. keuntungan
- C. mensejahterakan
- D. ketenangan

27. Organisasi pergerakan nasional yang lahir pertama kali adalah .....

- A. Indische Partai
- B. Budi Utomo
- C. Serikat Islam
- D. Partai Nasional

28. Panitia sembilan adalah tokoh – tokoh di dalam ....

- A. PUTERA
- B. PETA
- C. PPKI
- D. BPUPKI

29.  $\sqrt{4.900} = \dots$

- A. 70
- B. 80
- C. 90
- D. 100

30. 12 km + 15 hm + 20 dam = ..... m

- A. 12.152

- B. 13.200
- C. 12.300
- D. 13.700

31.  $3 \times \sqrt{8.100} = \dots\dots$

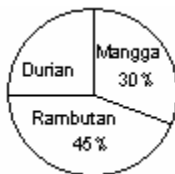
- A. 260
- B. 27
- C. 26
- D. 270

32. Hasil operasi hitung dari  $19,05 + 8,76 - 4,57 = \dots$

- A. 23,24
- B. 23,23
- C. 24,23
- D. 23,42

33. Keliling persegi panjang 150 cm. Perbandingan panjang dan lebar 6 : 4. Berapakah luas persegi panjang tersebut ?

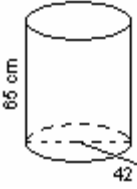
- A. 1.350
- B. 1.250
- C. 1.035
- D. 1.025



34.

Menurut diagram di samping, jika hasil kebun seluruhnya 5 ton, berapa kg durian hasil kebun tersebut ?

- A. 1.500
- B. 1.250
- C. 1.000
- D. 750



35. Volume tabung di atas adalah ..... cm

- A. 90.109
- B. 90.090
- C. 90.900
- D. 91.090

Kunci Jawaban

- |       |       |
|-------|-------|
| 1. D  | 20. C |
| 2. B  | 21. D |
| 3. A  | 22. B |
| 4. A  | 23. D |
| 5. C  | 24. A |
| 6. A  | 25. D |
| 7. B  | 26. C |
| 8. C  | 27. B |
| 9. A  | 28. D |
| 10. A | 29. A |
| 11. D | 30. D |
| 12. D | 31. D |
| 13. D | 32. A |
| 14. A | 33. A |
| 15. A | 34. B |
| 16. C | 35. B |
| 17. C |       |
| 18. B |       |
| 19. B |       |